

GÉOMÉTRIE

Les propriétés des quadrilatères

.....

.....

.....

.....

.....

.....

.....

.....

.....

.....

.....

.....

.....

.....

.....

.....

.....

.....

.....

.....

.....

.....

.....

.....

.....

.....

.....

.....

.....

.....

.....

.....

.....

.....

.....

.....

.....

.....

.....

.....

.....


.....

.....

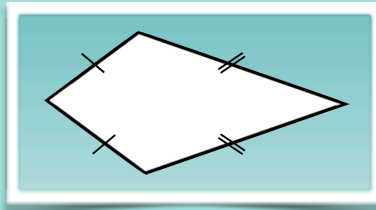
.....

.....

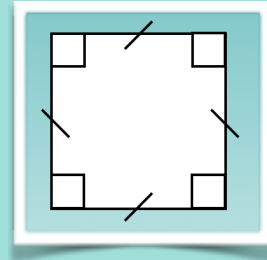
Quelles sont les propriétés du ?



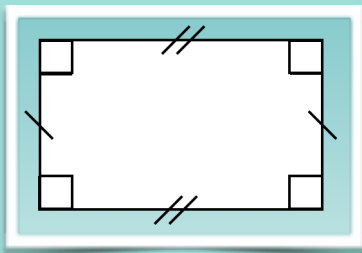
Quelles sont les propriétés du ?



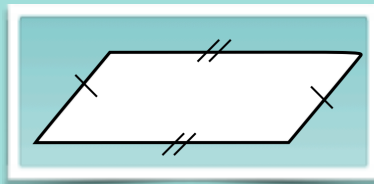
Quelles sont les propriétés du ?



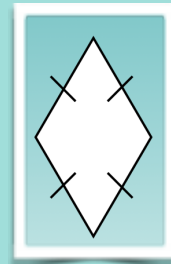
Quelles sont les propriétés du ?



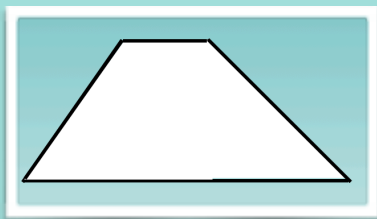
Quelles sont les propriétés du ?



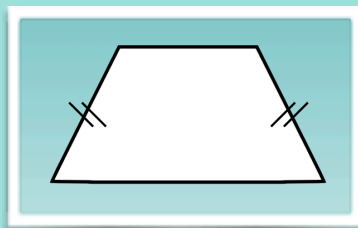
Quelles sont les propriétés du ?



Quelles sont les propriétés du ?



Quelles sont les propriétés du ?



Quelles sont les propriétés du ?

